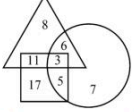



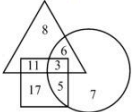



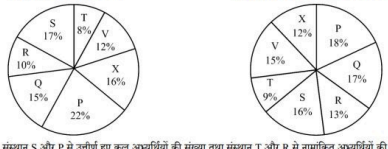
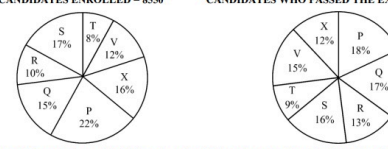
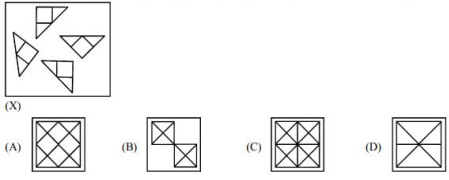
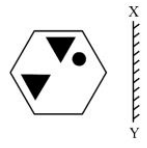









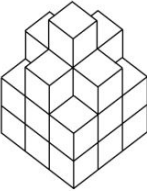


UP Police Constable 23 August 2024 1st Shift Answer Key

Q.No संख्या	Question सवाल	Key उत्तर	Option Type आपत्ति का प्रकार *	Explain what is wrong? बताएं कि क्या गलत है *	Reference Document सन्दर्भ दस्तावेज़
1	निम्नलिखित में से किस शब्द के अक्षर अंग्रेजी वर्णमाला क्रम में हैं ? Which of the following words has its letters in an alphabetical order ? (A) Adrops (B) Envelops (C) Bloops (D) Collops	C	--Select--	<input type="text"/>	Choose File No file chosen Submit Objection
2	यदि $p > q = p^2 + q^3$ और $p < q = p^3 - q^2$, तो $(1 > 2) < 3 =$ If $p > q = p^2 + q^3$ and $p < q = p^3 - q^2$, then $(1 > 2) < 3 =$ (A) 480 (B) 840 (C) 600 (D) 720	D	--Select--	<input type="text"/>	Choose File No file chosen Submit Objection
3	निम्नलिखित अनुक्रम की शारीरी से जांच कीजिए और उसके बाद आने वाले प्रश्न का उत्तर दीजिए। R K 5 9 # B 2 % * E ? A 8 L S I 4 S V 7 ! C 6 N @ H I 1 3 D ऐसे चिह्न अक्षर हैं, जिनमें से प्रत्येक के ठीक पहले और ठीक बाद एक चिह्न है ? Examine the following sequence closely and respond to the question that follows. R K 5 9 # B 2 % * E ? A 8 L S I 4 S V 7 ! C 6 N @ H I 1 3 D How many letters are there, each of which is immediately preceded and immediately followed by a symbol ? (A) 1 (B) 3 (C) 0 (D) 2	A	--Select--	<input type="text"/>	Choose File No file chosen Submit Objection
4	पर्दे कपड़े से उसी तरह संबंधित हैं जिस तरह ब्लाइंड्स संबंधित हैं : (A) कवर से (B) लिफ्टर्स से (C) डोरियों से (D) स्लैट्स से Curtains are related to fabric in the same way as blinds are related to : (A) Covers (B) Lifters (C) Cords (D) Slats	D	--Select--	<input type="text"/>	Choose File No file chosen Submit Objection
5	साबुन का संबंध साफ-सफाई से है, उसी तरह दूध का संबंध है : (A) ताजगी से (B) गंध से (C) बुद्धिमान से (D) साफ-सुवरा से Soap is related to Clean in the same way as Perfume is related to : (A) Freshness (B) Smell (C) Smart (D) Neat	B	--Select--	<input type="text"/>	Choose File No file chosen Submit Objection
6	दिए गए संयोजनों में पैटर्न को देखते हुए, आप '??' द्वारा निरूपित संयोजन को कैसे व्यक्त करेंगे ? Given the pattern in the provided combinations, how would you express the combination represented by '??' ? AZ3B, CY6D, EX9F, ? (A) IV15J (B) NZ21O (C) GW12H (D) KX18L	C	--Select--	<input type="text"/>	Choose File No file chosen Submit Objection
7	एक व्यक्ति 15 मीटर पूर्व की ओर चलता है, फिर बाएं मुड़ता है और 10 मीटर चलता है, फिर बायां मुड़ता है और 15 मीटर चलता है। वह शुरूआती बिंदु से कितना दूर है ? (A) 10 मीटर (B) 18 मीटर (C) 15 मीटर (D) 20 मीटर A person walks 15 meters east, then turns left and walks 10 meters, then turns left again and walks 15 meters. How far is he from the starting point ? (A) 10 meters (B) 18 meters (C) 15 meters (D) 20 meters	A	--Select--	<input type="text"/>	Choose File No file chosen Submit Objection
8	यदि आप शुरूआत में पश्चिम की ओर मुंह करके 270 डिग्री दक्षिणावर्त मुड़ते हैं, तो अब आप किस दिशा में मुंह करके खड़े हैं ? (A) पूर्व (B) दक्षिण (C) पश्चिम (D) उत्तर-पश्चिम Which direction are you facing now, if you turn 270 degrees clockwise from facing west at the beginning ? (A) East (B) South (C) West (D) North-West	B	--Select--	<input type="text"/>	Choose File No file chosen Submit Objection
9	कथनों को पढ़िए और निष्कर्ष के संबंध में सही विकल्प का चयन कीजिए। कथन 1 : टेबल टेनिस खेलती है। कथन 2 : टेबल टेनिस एक कठिन खेल है। निष्कर्ष : टेबल टेनिस खेल खेलती है। उपर्युक्त कथनों से हम यह निष्कर्ष निकाल सकते हैं कि : (A) किसी निष्कर्ष पर नहीं पहुंचा जा सकता (B) बताया गया निष्कर्ष निश्चित रूप से सही है (C) बताया गया निष्कर्ष निश्चित रूप से गलत है (D) बताया गया निष्कर्ष संभवतः गलत है Read the statements and select the correct alternative regarding the conclusion. Statement 1 : Tray plays table tennis. Statement 2 : Table tennis is a difficult game. Conclusion : Tray plays a difficult game. From the above statements, we can conclude that : (A) No conclusion can be reached (B) The conclusion stated is definitely true (C) The conclusion stated is definitely false (D) The conclusion stated is probably false	B	--Select--	<input type="text"/>	Choose File No file chosen Submit Objection
10	श्रृंखला में लुप्त संख्याएँ (A, B) ज्ञात कीजिए और B + A का मान ज्ञात कीजिए। Find the missing numbers (A, B) in the series and find the value of B + A. 25, 36, 49, A, 81, B, 121. (A) 164 (B) 125 (C) 152 (D) 146	A	--Select--	<input type="text"/>	Choose File No file chosen Submit Objection
11	दी गई संख्याओं में पैटर्न को देखते हुए, आप '??' द्वारा निरूपित संख्या को कैसे व्यक्त करेंगे ? Given the pattern in the provided numbers, how would you express the number represented by '??' ? 1, 1, 9, 27, 25, 125, ?, 343 (A) 34 (B) 37 (C) 22 (D) 49	D	--Select--	<input type="text"/>	Choose File No file chosen Submit Objection
12	निम्नलिखित में से कौन-सी आकृति बाकी से अलग है ? (A) वर्ग (B) गोला (C) वृत्त (D) त्रिकोण Which of the following shapes is different from the rest ? (A) Square (B) Sphere (C) Circle (D) Triangle	B	--Select--	<input type="text"/>	Choose File No file chosen Submit Objection
13	एक महिला की ओर इशारा करते हुए निर्मला ने कहा, "वह मेरी बहन की माँ के इक्कीसवें बेटे की बेटी है।" निर्मला का उस महिला से क्या संबंध है ? (A) माँ (B) चचेरी बहन (C) बुआ (D) बहन Pointing at a woman, Nirmala said, "She is the daughter of the only son of the mother of my sister." How is Nirmala related to the woman ? (A) Mother (B) Cousin (C) Paternal Aunt (D) Sister	C	--Select--	<input type="text"/>	Choose File No file chosen Submit Objection

<p>14</p> <p>दिए गए आरेख का परीक्षण कीजिए और निम्नलिखित प्रश्न का उत्तर दीजिए।</p>  <p>  → नौकरपेशा (नियोजित) लोग  → पिछड़े लोग  → शिक्षित लोग </p> <p>पिछड़े माने जाने वाले कितने व्यक्ति शिक्षित नहीं हैं ? (A) 16 (B) 22 (C) 20 (D) 31</p> <p>Examine the provided diagram and respond to the following question.</p>  <p>  → Employed people  → Backward people  → Educated people </p> <p>How many individuals considered backward are not educated ? (A) 16 (B) 22 (C) 20 (D) 31</p>	<p>B</p> <p>--Select--</p> <p><input type="text"/></p> <p><input type="button" value="Choose File"/> No file chosen</p> <p><input type="button" value="Submit Objection"/></p>
<p>15</p> <p>अगला अक्षर क्या है ? What is the next letter ? P : Q :: T : _____ (A) U (B) P (C) T (D) R</p>	<p>A</p> <p>--Select--</p> <p><input type="text"/></p> <p><input type="button" value="Choose File"/> No file chosen</p> <p><input type="button" value="Submit Objection"/></p>
<p>16</p> <p>यदि आप दक्षिण-पश्चिम की ओर मुंह करके खड़े हैं और 180 डिग्री दाईं ओर मुड़ते हैं, तो अब आप किस दिशा की ओर मुंह करके खड़े हैं ? (A) उत्तर-पश्चिम (B) उत्तर-पूर्व (C) दक्षिण-पश्चिम (D) दक्षिण-पूर्व If you start facing South-West and turn 180 degrees to your right, what direction are you facing now ? (A) North-West (B) North-East (C) South-West (D) South-East</p>	<p>B</p> <p>--Select--</p> <p><input type="text"/></p> <p><input type="button" value="Choose File"/> No file chosen</p> <p><input type="button" value="Submit Objection"/></p>
<p>17</p> <p>140 विद्यार्थियों के सर्वेक्षण में पाया गया कि 60 विद्यार्थी वीडियो गेम खेलना पसंद करते हैं, 70 विद्यार्थी इनडोर गेम खेलना पसंद करते हैं, तथा 75 विद्यार्थी आउटडोर गेम खेलना पसंद करते हैं। इसके अतिरिक्त 30 छात्र इनडोर और आउटडोर दोनों खेल पसंद हैं, 18 को वीडियो गेम और आउटडोर गेम दोनों खेल पसंद हैं, 42 को वीडियो गेम और इनडोर गेम दोनों खेल पसंद हैं, तथा 8 को सभी प्रकार के खेल पसंद हैं। जेन आरेख का उपयोग करके उन छात्रों को ज्ञात कीजिए जो केवल आउटडोर खेल खेलते हैं। In a survey of 140 students, 60 students like to play video games, 70 students like to play indoor games, and 75 students like to play outdoor games. Additionally, 30 students like to play both indoor and outdoor games, 18 like both video games and outdoor games, 42 play both video games and indoor games, and 8 like all types of games. Use the Venn diagram to find the students who play only outdoor games. (A) 64 (B) 32 (C) 35 (D) 57</p>	<p>C</p> <p>--Select--</p> <p><input type="text"/></p> <p><input type="button" value="Choose File"/> No file chosen</p> <p><input type="button" value="Submit Objection"/></p>
<p>18</p> <p>निम्नलिखित पाई चार्ट एक परीक्षा के लिए नामांकित अभ्यर्थियों और विभिन्न संस्थानों में परीक्षा उत्तीर्ण करने वाले अभ्यर्थियों (नामांकित अभ्यर्थियों में से) का वितरण दर्शाते हैं।</p> <p>नामांकित अभ्यर्थी = 8550 परीक्षा उत्तीर्ण करने वाले अभ्यर्थी = 5700</p>  <p>संस्थान S और P से उत्तीर्ण हुए कुल अभ्यर्थियों की संख्या तथा संस्थान T और R से नामांकित अभ्यर्थियों की कुल संख्या के बीच का अंतर क्या है ? (A) 399 (B) 440 (C) 300 (D) 400</p> <p>The following pie charts represent the distribution of candidates who were enrolled for an exam and the candidates (out of those enrolled) who passed the exam in different institutes : CANDIDATES ENROLLED = 8550 CANDIDATES WHO PASSED THE EXAM = 5700</p>  <p>The difference between the total number of candidates who passed from institutes S and P combined and the total number of candidates enrolled from institutes T and R combined is : (A) 399 (B) 440 (C) 300 (D) 400</p>	<p>A</p> <p>--Select--</p> <p><input type="text"/></p> <p><input type="button" value="Choose File"/> No file chosen</p> <p><input type="button" value="Submit Objection"/></p>
<p>19</p> <p>एक निश्चित कूट भाषा में, यदि 'SCRABBLE' को '19318122125' के रूप में कूटबद्ध किया जाता है, तो उसी भाषा में 'STUNNED' को किस प्रकार कूटबद्ध किया जाएगा ? In a certain coded language, if 'SCRABBLE' is coded as '19318122125', how will 'STUNNED' be coded in that language ? (A) 192020141545 (B) 192022141454 (C) 192021141454 (D) 192021141545</p>	<p>C</p> <p>--Select--</p> <p><input type="text"/></p> <p><input type="button" value="Choose File"/> No file chosen</p> <p><input type="button" value="Submit Objection"/></p>
<p>20</p> <p>असमान संख्याएँ ज्ञात कीजिए। Find the dissimilar numbers. (A) 4, 9 (B) 49, 81 (C) 8, 27 (D) 16, 25</p>	<p>C</p> <p>--Select--</p> <p><input type="text"/></p> <p><input type="button" value="Choose File"/> No file chosen</p> <p><input type="button" value="Submit Objection"/></p>
<p>21</p> <p>निम्नलिखित श्रृंखला में गलत संख्या की पहचान कीजिए। Identify the incorrect number in the following series. 4, 7, 13, 21, 34 (A) 21 (B) 34 (C) 7 (D) 13</p>	<p>A</p> <p>--Select--</p> <p><input type="text"/></p> <p><input type="button" value="Choose File"/> No file chosen</p> <p><input type="button" value="Submit Objection"/></p>
<p>22</p> <p>यदि आपके पास एक नियमित विंशकणक (इकोसाहेड्रॉन) है और आप इसे एक ऐसे समतल (प्लेन) पर काटते हैं जो इसके छह फलकों (फेस) को काटता है, तो परिणामी अनुप्रस्थ-काट (क्रॉस-सेक्शन) का आकार क्या होगा ? (A) आयत (रेक्टेंगल) (B) विषम चतुर्भुज (ट्रैपेजोइड) (C) षट्भुज (हेक्सागॉन) (D) पंचभुज (पेंटागॉन) If you have a regular icosahedron and you slice it along a plane that intersects six of its faces, what is the shape of the resulting cross-section ? (A) Rectangle (B) Trapezoid (C) Hexagon (D) Pentagon</p>	<p>C</p> <p>--Select--</p> <p><input type="text"/></p> <p><input type="button" value="Choose File"/> No file chosen</p> <p><input type="button" value="Submit Objection"/></p>
<p>23</p> <p>अनीश की ओर इशारा करते हुए एक महिला ने कहा, "उसकी माँ मेरी माँ की इकलौती बेटा है।" वह महिला अनीश से किस प्रकार संबंधित है ? Pointing towards Aneesh, a woman said, "His mother is the only daughter of my mother." How is the woman related to Aneesh ? (A) दादी (B) बेटा (C) माँ (D) बहन (A) Grandmother (B) Daughter (C) Mother (D) Sister</p>	<p>C</p> <p>--Select--</p> <p><input type="text"/></p> <p><input type="button" value="Choose File"/> No file chosen</p> <p><input type="button" value="Submit Objection"/></p>

<p>24</p>	<p>चार लोग (1, 2, 3, 4) अलग-अलग फल चुनते हैं - सेब, केला, चेरी और खजूर। जिस व्यक्ति ने सेब चुना वह केला चुनने वाले व्यक्ति के बगल में है न कि उस व्यक्ति के बगल में जिसने खजूर चुना। जिस व्यक्ति ने चेरी चुनी है वह उस व्यक्ति के बगल में है जिसने खजूर चुना है। सही संयोजन है : (A) 1 - केला, 2 - चेरी, 3 - खजूर, 4 - सेब (B) 1 - केला, 2 - सेब, 3 - खजूर, 4 - चेरी (C) 1 - सेब, 2 - केला, 3 - खजूर, 4 - चेरी (D) 1 - चेरी, 2 - केला, 3 - खजूर, 4 - सेब Four people (1, 2, 3, 4) each pick a different fruit - apple, banana, cherry and date. The person who picked the apple is next to the person who picked the banana and not next to the person who picked the date. The person who picked the cherry is next to the person who picked the date. The correct combination is : (A) 1 - Banana, 2 - Cherry, 3 - Date, 4 - Apple (B) 1 - Banana, 2 - Apple, 3 - Date, 4 - Cherry (C) 1 - Apple, 2 - Banana, 3 - Date, 4 - Cherry (D) 1 - Cherry, 2 - Banana, 3 - Date, 4 - Apple</p>	<p>C</p> <p>--Select--</p>	<p>Choose File No file chosen</p> <p>Submit Objection</p>
<p>25</p>	<p>ज्ञात कीजिए कि पहली आकृति (X) में दिए गए टुकड़ों से कौन-सी आकृतियाँ बनाई जा सकती हैं। Find out which of the figures can be formed from the pieces given in the first figure (X). </p>	<p>A</p> <p>--Select--</p>	<p>Choose File No file chosen</p> <p>Submit Objection</p>
<p>26</p>	<p>एक निखिंदर को उसके अक्ष से 45 डिग्री के कोण पर टुकड़े हुए समतल (प्लेन) द्वारा प्रतिच्छेद किया जाता है। परिणामी अनुप्रस्थ-खट (कॉस-सेक्शन) का आकार क्या है ? (A) वृत्त (B) अतिपरवलय (C) परवलय (D) दीर्घवृत्त A cylinder is intersected by a plane inclined at an angle of 45 degrees to its axis. What is the shape of the resulting cross-section ? (A) Circle (B) Hyperbola (C) Parabola (D) Ellipse</p>	<p>D</p> <p>--Select--</p>	<p>Choose File No file chosen</p> <p>Submit Objection</p>
<p>27</p>	<p>यदि CAT का कोड DBU है, तो DOG का कोड क्या है ? If the code for CAT is DBU, what is the code for DOG ? (A) EOF (B) EPH (C) DPF (D) EPF</p>	<p>B</p> <p>--Select--</p>	<p>Choose File No file chosen</p> <p>Submit Objection</p>
<p>28</p>	<p>सादृश्य पूरा कीजिए। दर्याने : हाथ :: मौजे : ? (A) जूता (B) बाँह (C) पैर (D) सिर Complete the analogy. Glove : Hand :: Sock :: ? (A) Shoe (B) Arm (C) Foot (D) Head</p>	<p>C</p> <p>--Select--</p>	<p>Choose File No file chosen</p> <p>Submit Objection</p>
<p>29</p>	<p>सादृश्य पूरा कीजिए। अंतरिक्ष-यात्री : अंतरिक्ष यान :: गौताखोर : ? (A) साइकिल (B) हवाई जहाज (C) परतुड्वनी (D) कार Complete the analogy. Astronaut : Spacecraft :: Diver :: ? (A) Bicycle (B) Airplane (C) Submarine (D) Car</p>	<p>C</p> <p>--Select--</p>	<p>Choose File No file chosen</p> <p>Submit Objection</p>
<p>30</p>	<p>छः सदस्यों के एक परिवार A, B, C, D, E और F में, दो विवाहित जोड़े हैं। D एक शिक्षक है और E का पिता है। F, E की बहन है और एक महिला है। C एक वकील है और A से विवाहित है। B पुरुष नहीं है। B, E से किस प्रकार संबंधित है ? (A) पिता (B) मामी (C) बहन (D) माँ In a family of six members, A, B, C, D, E and F, there are two married couples. D is a teacher and E is the father of F. F is the daughter of E and a housewife. C is a lawyer and married to A. B is not a male. How is B related to E ? (A) Father (B) Aunt (C) Sister (D) Mother</p>	<p>D</p> <p>--Select--</p>	<p>Choose File No file chosen</p> <p>Submit Objection</p>
<p>31</p>	<p>यदि तीन क्रमागत सम संख्याओं का योगफल 78 है, तो दूसरी सबसे बड़ी संख्या क्या है ? If the sum of three consecutive even numbers is 78, what is the second largest number ? (A) 30 (B) 28 (C) 24 (D) 26</p>	<p>D</p> <p>--Select--</p>	<p>Choose File No file chosen</p> <p>Submit Objection</p>
<p>32</p>	<p>कोड के अनुसार, अंक 0, 1, 2, 3, 4 को क्रमशः A, B, C, D, E द्वारा दर्शाया जाता है। [(B + E) - (D + A)] का मान ज्ञात कीजिए। According to the code, digits 0, 1, 2, 3, 4 are represented by A, B, C, D, E respectively. Find the value of [(B + E) - (D + A)]. (A) -2 (B) 3 (C) 1 (D) 2</p>	<p>D</p> <p>--Select--</p>	<p>Choose File No file chosen</p> <p>Submit Objection</p>
<p>33</p>	<p>श्रृंखला में अगली संख्या क्या होगी ? What will be the next number in the series ? 3, 6, 18, 72, 360, ... (A) 1260 (B) 1820 (C) 2180 (D) 2160</p>	<p>D</p> <p>--Select--</p>	<p>Choose File No file chosen</p> <p>Submit Objection</p>
<p>34</p>	<p>आकृति का दर्पण प्रतिबिंब ज्ञात कीजिए, यदि दर्पण को XY पर रखा गया है। Find the mirror image of the figure, if the mirror is placed at XY.  (A)  (B)  (C)  (D) </p>	<p>B</p> <p>--Select--</p>	<p>Choose File No file chosen</p> <p>Submit Objection</p>

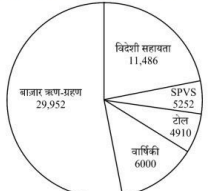
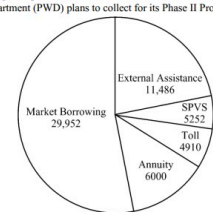
<p>35</p>	<p>आकृति में त्रिभुजों की संख्या ज्ञात कीजिए। Find the number of triangles in the figure.</p>  <p>(A) 16 (B) 8 (C) 12 (D) 9</p>	<p>A</p> <p>--Select--</p>	<p>Choose File No file chosen</p> <p>Submit Objection</p>
<p>36</p>	<p>निम्नलिखित में से कौन-सा आरेख सेट महिलाओं, माताओं और माता-पिता (जनक) के बीच संबंध को दर्शाता है ? Which of the following diagram/set indicates the relation between women, mothers and parents ?</p> <p>(A)  (B) </p> <p>(C)  (D) </p>	<p>C</p> <p>--Select--</p>	<p>Choose File No file chosen</p> <p>Submit Objection</p>
<p>37</p>	<p>दिए गए चित्र में व्यवस्थित घनों की संख्या ज्ञात कीजिए : Find out the number of the cubes that are arranged in the figure given :</p>  <p>(A) 16 (B) 17 (C) 24 (D) 18</p>	<p>C</p> <p>--Select--</p>	<p>Choose File No file chosen</p> <p>Submit Objection</p>
<p>38</p>	<p>विषम को चुनिए। Choose the odd one out.</p> <p>(A) FG (B) QR (C) AZ (D) KL</p>	<p>C</p> <p>--Select--</p>	<p>Choose File No file chosen</p> <p>Submit Objection</p>
<p>39</p>	<p>एक निश्चित धनराशि पर दो वर्ष के लिए 5% की दर से साधारण व्याज ₹ 1,600 है। 3 वर्ष के बाद समान दर पर चक्रवृद्धि व्याज (वार्षिक रूप से संयोजित व्याज) ज्ञात कीजिए। The simple interest on a certain sum of money for two years at 5% is ₹ 1,600. Find the compound interest at the same rate after 3 years, interest compounded annually.</p> <p>(A) ₹ 2,522 (B) ₹ 2,355 (C) ₹ 2,520 (D) ₹ 2,555</p>	<p>A</p> <p>--Select--</p>	<p>Choose File No file chosen</p> <p>Submit Objection</p>
<p>40</p>	<p>12-02-2022 से 11-02-2023 तक 15% प्रति वर्ष की दर से ₹ 73,000 पर साधारण व्याज है : The simple interest on ₹ 73,000 at the rate of 15% per annum from 12-02-2022 to 11-02-2023 is :</p> <p>(A) ₹ 10,950 (B) ₹ 14,750 (C) ₹ 12,050 (D) ₹ 13,450</p>	<p>A</p> <p>--Select--</p>	<p>Choose File No file chosen</p> <p>Submit Objection</p>
<p>41</p>	<p>₹ 475 अंकित और 15% छूट पर चूले की एक जोड़ी पर कितनी छूट है ? What is the discount on a pair of shoes marked at ₹ 475 and discounted at 15% ?</p> <p>(A) ₹ 72 (B) ₹ 75.25 (C) ₹ 70 (D) ₹ 71.25</p>	<p>D</p> <p>--Select--</p>	<p>Choose File No file chosen</p> <p>Submit Objection</p>
<p>42</p>	<p>एक दुकानदार एक वस्तु के अंकित मूल्य पर 10% की छूट देता है लेकिन छूट वाले मूल्य पर 8% का विक्री कर लगाता है। यदि ग्राहक विक्री कर सहित मूल्य के रूप में ₹ 34,020 का भुगतान करता है, तो अंकित मूल्य कितना है ? A shopkeeper allows a discount of 10% on the marked price of an item but charges a sales tax of 8% on the discounted price. If the customer pays ₹ 34,020 as the price including the sales tax, then what is the marked price ?</p> <p>(A) ₹ 35,000 (B) ₹ 38,000 (C) ₹ 34,000 (D) ₹ 39,000</p>	<p>A</p> <p>--Select--</p>	<p>Choose File No file chosen</p> <p>Submit Objection</p>
<p>43</p>	<p>यदि x और $\frac{1}{x}$ ($x \neq 0$) का औसत m है, तो x^2 और $\frac{1}{x^2}$ का औसत है : If the average of x and $\frac{1}{x}$ ($x \neq 0$) is m, then the average of x^2 and $\frac{1}{x^2}$ is :</p> <p>(A) $1 - 2m$ (B) $2m^2 + 1$ (C) $1 - 3m^2$ (D) $2m^2 - 1$</p>	<p>D</p> <p>--Select--</p>	<p>Choose File No file chosen</p> <p>Submit Objection</p>
<p>44</p>	<p>यदि 9 क्रमागत सम संख्याओं का औसत 132 है, तो पहली और अंतिम संख्याओं का अंतर ज्ञात कीजिए। If the average of 9 consecutive even numbers is 132, find the difference between the first and the last numbers.</p> <p>(A) 15 (B) 18 (C) 19 (D) 16</p>	<p>D</p> <p>--Select--</p>	<p>Choose File No file chosen</p> <p>Submit Objection</p>
<p>45</p>	<p>चावल के प्रति किग्रा मूल्य में 25% की वृद्धि के परिणामस्वरूप, एक व्यक्ति ₹ 1,200 में 6 किग्रा कम चावल खरीद पाता है। चावल का प्रति किग्रा प्रारंभिक मूल्य क्या था ? As a result of 25% hike in the price of rice per kg, a person is unable to purchase 6 kg more rice for ₹ 1,200. What was the original price of rice per kg ?</p> <p>(A) ₹ 40 (B) ₹ 60 (C) ₹ 30 (D) ₹ 50</p>	<p>A</p> <p>--Select--</p>	<p>Choose File No file chosen</p> <p>Submit Objection</p>
<p>46</p>	<p>0.05, 0.5, 0.25, 1.25 का महत्तम समापवर्तक (HCF) ज्ञात कीजिए। Find the HCF of 0.05, 0.5, 0.25, 1.25.</p> <p>(A) 0.5 (B) 0.25 (C) 0.05 (D) 1.25</p>	<p>C</p> <p>--Select--</p>	<p>Choose File No file chosen</p> <p>Submit Objection</p>
<p>47</p>	<p>सबसे छोटी संख्या ज्ञात कीजिए जिसे 4, 6, 7, 8 और 9 से विभाजित करने पर प्रत्येक स्थिति में शेषफल 3 बचता है। Find the smallest number which when divided by 4, 6, 7, 8 and 9 leaves the remainder 3 in each case.</p> <p>(A) 504 (B) 510 (C) 507 (D) 501</p>	<p>C</p> <p>--Select--</p>	<p>Choose File No file chosen</p> <p>Submit Objection</p>
<p>48</p>	<p>यदि 30 टेबलों का लागत मूल्य 40 टेबलों के विक्रम मूल्य के बराबर है, तो हानि प्रतिशत क्या है ? If the cost price of 30 tables is equal to the selling price of 40 tables, then what is the loss percentage ?</p> <p>(A) 30% (B) 37.5% (C) 26% (D) 25%</p>	<p>D</p> <p>--Select--</p>	<p>Choose File No file chosen</p> <p>Submit Objection</p>

49	<p>एक फल विक्रेता कुछ संतरे ₹ 10 में 4 की दर से और जते ही अधिक संतरे ₹ 10 में 5 संतरे की दर से खरीता है। अब वह पूरे लॉट को ₹ 20 में 9 की दर से बेचता है। उसकी हानि या लाभ प्रतिशत क्या है ?</p> <p>(A) लाभ प्रतिशत $19\frac{19}{81}\%$ (B) हानि प्रतिशत 12%</p> <p>(C) हानि प्रतिशत $19\frac{19}{81}\%$ (D) न हानि न लाभ</p> <p>A fruit seller buys some oranges at the rate of 4 for ₹ 10 and an equal number more at 5 for ₹ 10. Then he sells the whole lot at the rate of 9 for ₹ 20. What is his loss or gain percentage ?</p> <p>(A) Gain percent $19\frac{19}{81}\%$ (B) Loss percent 12%</p> <p>(C) Loss percent $19\frac{19}{81}\%$ (D) No loss or no gain</p>	C	--Select--		Choose File No file chosen Submit Objection
50	<p>निखिल और रीतु की आय 2 : 1 के अनुपात में है। वे 5 : 3 के अनुपात में खर्च करते हैं और 4 : 1 के अनुपात में बचत करते हैं। यदि निखिल और रीतु दोनों की कुल वित्तीय मासिक कमाई ₹ 10,000 है, तो प्रत्येक की मासिक आय ज्ञात कीजिए। Nikhil and Reetu earn in the ratio 2 : 1. They spend in the ratio 5 : 3 and save in the ratio 4 : 1. Find the monthly income of each, if the total monthly savings of both Nikhil and Reetu together is ₹ 10,000.</p> <p>(A) ₹ 10,000, ₹ 5,000 (B) ₹ 8,000, ₹ 4,000 (C) ₹ 28,000, ₹ 14,000 (D) ₹ 2,000, ₹ 1,000</p>	C	--Select--		Choose File No file chosen Submit Objection
51	<p>एक परीक्षा में एक छात्र जो अधिकतम अंक का 20% प्राप्त करता है, वह 5 अंकों से अनुत्तीर्ण हो जाता है। एक अन्य छात्र जो अधिकतम अंकों का 30% कमाता है, वह उत्तीर्ण अंकों से 20 अंक अधिक प्राप्त करता है। उत्तीर्ण होने के लिए आवश्यक प्रतिशत क्या है ? In an examination, a student who gets 20% of the maximum marks fails by 5 marks. Another student who scores 30% of the maximum marks, gets 20 marks more than the passing marks. The percentage required for passing is :</p> <p>(A) 27% (B) 20% (C) 42% (D) 22%</p>	D	--Select--		Choose File No file chosen Submit Objection
52	<p>दो प्रकार के चावल की दर ₹ 11 प्रति किग्रा और ₹ 21 प्रति किग्रा है। ₹ 17 प्रति किग्रा की दर से एक मिश्रण प्राप्त करने के लिए दो प्रकार के चावल का अनुपात ज्ञात कीजिए। Two types of rice rates are ₹ 11/kg and ₹ 21/kg. Find the ratio of the two types of rice to obtain a mixture of rate ₹ 17/kg.</p> <p>(A) 1 : 1 (B) 2 : 3 (C) 3 : 1 (D) 2 : 1</p>	B	--Select--		Choose File No file chosen Submit Objection
53	<p>दो रेलगाड़ियाँ क्रमशः 59 किमी/घंटा और 32 किमी/घंटा की चाल से समान दिशाओं में चलती हैं और तेजी से चलने वाली रेलगाड़ी, धीमी गति से चलने वाली रेलगाड़ी में बैठे एक व्यक्ति को 16 सेकंड में पार करती है। जब गति से चलने वाली रेलगाड़ी की लम्बाई ज्ञात कीजिए। Two trains travel in the same direction at 59 km/hr and 32 km/hr and the faster train passes a man in the slower train in 16 seconds. Find the length of the faster train.</p> <p>(A) 120 मी. (B) 123 मी. (C) 170 मी. (D) 124 मी.</p> <p>(A) 120 m (B) 123 m (C) 170 m (D) 124 m</p>	A	--Select--		Choose File No file chosen Submit Objection
54	<p>67 मीटर लंबी ट्रेन 10 सेकंड में 33 मीटर लंबी सुरंग को पार करती है। ट्रेन द्वारा 65 मीटर लंबे प्लेटफॉर्म पर खड़े एक व्यक्ति को पार करने में लगने वाला समय ज्ञात कीजिए। A 67 meters long train crosses a tunnel of length 33 meters in 10 seconds. Find the time for the train to cross a man standing on a platform of length 65 meters.</p> <p>(A) 8.8 seconds (B) 4.5 seconds (C) 6.7 seconds (D) 5.5 seconds</p>	C	--Select--		Choose File No file chosen Submit Objection
55	<p>भारतीय रेलवे ने एक निश्चित काम को 150 दिनों में पूरा करने के लिए 200 श्रमिकों को नियुक्त किया। यदि 50 दिनों में केवल एक-चौथाई काम किया गया, तो पूरे काम को समाप्त करने के लिए, नियुक्त किए जाने वाले अतिरिक्त श्रमिकों की संख्या क्या है ? Indian Railways employed 200 workers to complete a certain work in 150 days. If only one-fourth of the work had been done in 50 days, then to complete the whole work in time, what is the number of additional workers to be employed ?</p> <p>(A) 600 (B) 200 (C) 100 (D) 300</p>	C	--Select--		Choose File No file chosen Submit Objection
56	<p>12 पुरुष और 18 महिलाएँ एक काम को 10 दिनों में कर सकते हैं। 9 पुरुष और 18 महिलाएँ उसी काम को 12 दिनों में कर सकते हैं। यदि 2 पुरुष और 3 महिलाएँ एक साथ उसी काम को करते हैं, तो वे कितने दिनों में पूरा कर सकते हैं ? 12 men and 18 women can do a work in 10 days. 9 men and 18 women can do the same work in 12 days. If 2 men and 3 women together do the same work, in how many days will they complete the work ?</p> <p>(A) 70 days (B) 60 days (C) 80 days (D) 50 days</p>	B	--Select--		Choose File No file chosen Submit Objection
57	<p>12.5% की दर से एक धनराशि कितने समय में दुगुनी हो जाएगी ? In how much time will an amount be doubled at the rate of 12.5% ?</p> <p>(A) 8 वर्ष (B) 10 वर्ष (C) 12 वर्ष (D) 20 वर्ष</p> <p>(A) 8 years (B) 10 years (C) 12 years (D) 20 years</p>	A	--Select--		Choose File No file chosen Submit Objection
58	<p>इंडियन नेशनल कांग्रेस की स्थापना किस वर्ष में हुई थी ? The Indian National Congress was founded in which year ?</p> <p>(A) 1885 (B) 1947 (C) 1857 (D) 1905</p>	A	--Select--		Choose File No file chosen Submit Objection
59	<p>भारत का पहला हवाई अड्डा कहाँ पर स्थित था ? Where was India's first airport located ?</p> <p>(A) कलकत्ता (कोलकाता) (B) बॉम्बे (मुंबई) (C) दिल्ली (D) मद्रास (चेन्नई)</p> <p>(A) Calcutta (Kolkata) (B) Bombay (Mumbai) (C) Delhi (D) Madras (Chennai)</p>	B	--Select--		Choose File No file chosen Submit Objection
60	<p>भारत में व्यवसायों के लिए, सेवाओं हेतु, GST पंजीकरण के लिए थ्रेशोल्ड लिमिट (सीमा) क्या है ? What is the threshold limit for GST registration for businesses in India, for services ?</p> <p>(A) ₹ 10 लाख (B) ₹ 50 लाख (C) ₹ 5 लाख (D) ₹ 20 लाख</p> <p>(A) ₹ 10 lakhs (B) ₹ 50 lakhs (C) ₹ 5 lakhs (D) ₹ 20 lakhs</p>	D	--Select--		Choose File No file chosen Submit Objection
61	<p>भारत के किस पड़ोसी देश को "थंडर ड्रैगन की भूमि" के नाम से जाना जाता है ? Which of India's neighbouring country is known as the "Land of Thunder Dragon" ?</p> <p>(A) बांग्लादेश (B) भूटान (C) नेपाल (D) म्यांमार</p> <p>(A) Bangladesh (B) Bhutan (C) Nepal (D) Myanmar</p>	B	--Select--		Choose File No file chosen Submit Objection
62	<p>निम्नलिखित में से कौन-सा सोशल मीडिया प्लेटफॉर्म नहीं है ? Which of the following is not a Social Media Platform ?</p> <p>(A) फेसबुक (B) गूगल (C) ट्विटर (D) इंस्टाग्राम</p> <p>(A) Facebook (B) Google (C) Twitter (D) Instagram</p>	B	--Select--		Choose File No file chosen Submit Objection
63	<p>_____ में दुर्भावपूर्ण फाइलों वाली छविओं का उपयोग, हैकर को आपके खाते की जानकारी चुराने या आपके कंप्यूटर को संक्रमित करने में मदद करने के लिए किया जाता है। _____ uses images with malicious files in them, meant to help a hacker steal your account information or infect your computer.</p> <p>(A) स्मिशिंग (B) कैटफिशिंग (C) VPN (D) प्रॉक्स प्रोक्सि</p> <p>(A) Smishing (B) Catfishing (C) VPN (D) Image phishing</p>	D	--Select--		Choose File No file chosen Submit Objection
64	<p>क्रोएशिया गणराज्य की राजधानी क्या है ? What is the capital of Republic of Croatia ?</p> <p>(A) एम्स्टर्डम (B) डुब्रोवनिक (C) ज़ाग्रेब (D) मेक्सिको सिटी</p> <p>(A) Amsterdam (B) Dubrovnik (C) Zagreb (D) Mexico City</p>	C	--Select--		Choose File No file chosen Submit Objection

65	<p>आतंकवाद से लड़ने में सूचना साझा करना जिन तरीकों से महत्वपूर्ण हो जाता है ?</p> <p>(A) यह सेना की क्षमताओं को मजबूत करता है। (B) यह अन्य देशों के साथ संबंधों में सुधार करता है। (C) यह अधिकारियों को संपातित खतरों को अधिक तेजी से पहचानने में सहायता करता है। (D) यह आतंकवादी संगठनों को सुरक्षा एजेंसियों द्वारा हमलों को अधिक प्रभावी ढंग से समन्वित करने में सहायता करता है। In what ways does information sharing become important in fighting terrorism ?</p> <p>(A) It strengthens the military's capabilities. (B) It improves relations with other countries. (C) It allows authorities to identify potential threats more quickly. (D) It allows terrorist organizations to coordinate attacks more effectively through security agencies.</p>	C	--Select--		<p>Choose File No file chosen</p> <p>Submit Objection</p>
66	<p>नोएडा उत्तर प्रदेश के किस जिले के अंतर्गत आता है ?</p> <p>(A) गौतम-बुद्ध नगर (B) मथुरा (C) गाजियाबाद (D) बुलन्दशहर NOIDA comes under which district of Uttar Pradesh ?</p> <p>(A) Gautam-Buddha Nagar (B) Mathura (C) Ghaziabad (D) Bulandshahar</p>	A	--Select--		<p>Choose File No file chosen</p> <p>Submit Objection</p>
67	<p>विश्व डाक दिवस कब मनाया जाता है ?</p> <p>(A) 9 अक्टूबर (B) 15 अक्टूबर (C) 10 अक्टूबर (D) 3 अक्टूबर When is World Post Day celebrated ?</p> <p>(A) 9th October (B) 15th October (C) 10th October (D) 3rd October</p>	A	--Select--		<p>Choose File No file chosen</p> <p>Submit Objection</p>
68	<p>जून 2024 तक संघ गृह मंत्रालय का प्रमुख कौन है ?</p> <p>(A) अमित शाह (B) राजनव सिंह (C) नित्यानंद राव (D) नरेंद्र मोदी Who heads the Union Ministry of Home Affairs as of June 2024 ?</p> <p>(A) Amit Shah (B) Rajnath Singh (C) Nityanand Rai (D) Narendra Modi</p>	A	--Select--		<p>Choose File No file chosen</p> <p>Submit Objection</p>
69	<p>निम्नलिखित में से किस प्रकार का प्रदूषण संवर्धित (त्वरित) यूट्रोफिकेशन है ?</p> <p>(A) ऊष्मीय प्रदूषण (B) जल प्रदूषण (C) ध्वनि प्रदूषण (D) मृदा प्रदूषण Which of the following types of pollution is cultural (accelerated) eutrophication ?</p> <p>(A) Thermal pollution (B) Water pollution (C) Noise pollution (D) Soil pollution</p>	B	--Select--		<p>Choose File No file chosen</p> <p>Submit Objection</p>
70	<p>1946 के विमुद्रीकरण के दौरान RBI के गवर्नर कौन थे ?</p> <p>(A) डी. सुब्बाराव (B) शक्तिकांत दास (C) चिंतामण द्वारकानाथ देशमुख (D) उर्जित पटेल Who was the Governor of RBI during the demonetization in 1946 ?</p> <p>(A) D. Subbarao (B) Shaktikanta Das (C) Chintaman Dwarakanath Deshmukh (D) Urjit Patel</p>	C	--Select--		<p>Choose File No file chosen</p> <p>Submit Objection</p>
71	<p>भारतीय संविधान का कौन-सा भाग राज्य के नीति निर्देशक सिद्धांतों से संबंधित है ?</p> <p>(A) भाग III (B) भाग V (C) भाग II (D) भाग IV Which part of the Indian Constitution deals with the Directive Principles of State Policy ?</p> <p>(A) Part III (B) Part V (C) Part II (D) Part IV</p>	D	--Select--		<p>Choose File No file chosen</p> <p>Submit Objection</p>
72	<p>पुस्तक 'ए लाइफ मिसस्पेंट' किसके द्वारा लिखी गई थी ?</p> <p>(A) मैथिलिशरण गुप्त (B) सूर्यकांत त्रिपाठी 'निराला' (C) महादेवी वर्मा (D) जवाहरलाल नेहरू The book 'A Life Misspent' was written by whom ?</p> <p>(A) Maithilisharan Gupta (B) Suryakant Tripathi 'Nirala' (C) Mahadevi Verma (D) Jawaharlal Nehru</p>	B	--Select--		<p>Choose File No file chosen</p> <p>Submit Objection</p>
73	<p>आसमान के नीलेपन का मुख्य कारण _____ है।</p> <p>(A) वायु के कारण नीले प्रकाश का अवशोषण (B) रबेत प्रकाश का प्रकीर्णन (बिखराव) (C) जल वाष्प की उपस्थिति (D) वायु के अणुओं द्वारा सूर्य के प्रकाश का प्रकीर्णन (बिखराव) The main reason for the blueness of the sky is _____.</p> <p>(A) the absorption of blue light due to the air (B) the scattering of white light (C) the presence of water vapour (D) the scattering of sunlight by air molecules</p>	D	--Select--		<p>Choose File No file chosen</p> <p>Submit Objection</p>
74	<p>रामन सुब्बा राव, जिनका हाल ही में निधन हो गया, किस खेल से जुड़े थे ?</p> <p>(A) हॉकी (B) टेबल टेनिस (C) फुटबॉल (D) क्रिकेट Raman Subba Row, who passed away recently, was associated with which sport ?</p> <p>(A) Hockey (B) Table Tennis (C) Football (D) Cricket</p>	D	--Select--		<p>Choose File No file chosen</p> <p>Submit Objection</p>
75	<p>पहली बार राष्ट्रीय कृषि नीति कब घोषित की गई थी ?</p> <p>(A) मार्च 2002 (B) जनवरी 2004 (C) जुलाई 2000 (D) मार्च 2004 When was the first ever National Agriculture Policy announced ?</p> <p>(A) March 2002 (B) January 2004 (C) July 2000 (D) March 2004</p>	C	--Select--		<p>Choose File No file chosen</p> <p>Submit Objection</p>
76	<p>वर्ष _____ में अंतर्राष्ट्रीय मानवाधिकार कमिशन के प्रवर्तन के लिए संयुक्त राष्ट्र मानवाधिकार आयोग को संयुक्त राष्ट्र मानवाधिकार परिषद द्वारा प्रतिस्थापित किया गया। The United Nations Commission on Human Rights was replaced with the United Nations Human Rights Council for the enforcement of international human rights law in the year _____.</p> <p>(A) 2001 (B) 1998 (C) 2000 (D) 2006</p>	D	--Select--		<p>Choose File No file chosen</p> <p>Submit Objection</p>
77	<p>अफ्रीका के आर-पार वॉइड लगाते वाले पहले व्यक्ति कौन हैं ?</p> <p>(A) रस कुक (B) केनेमिसा बेकेले (C) डेनिस किमेटो (D) सिसाय लेम्मा Who is the first person to run across Africa ?</p> <p>(A) Russ Cook (B) Kenenisa Bekele (C) Dennis Kimetto (D) Sisay Lemma</p>	A	--Select--		<p>Choose File No file chosen</p> <p>Submit Objection</p>
78	<p>वर्ष 1985 को कौन-सा अंतर्राष्ट्रीय वर्ष घोषित किया गया था ?</p> <p>(A) युवा (B) महिला (C) दृष्टिहीन (D) बच्चे The year 1985 was declared as the International Year of</p> <p>(A) Youth (B) Women (C) Blind (D) Children</p>	A	--Select--		<p>Choose File No file chosen</p> <p>Submit Objection</p>
79	<p>_____ अनुसंधान विधियाँ उपरदाताओं की प्रतिक्रियाओं के आधार पर उन्से गहन और आगे की जांच और पूछताछ करने में सहायता करती हैं। _____ research methods allow for in-depth and further probing and questioning of respondents based on their responses.</p> <p>(A) मात्रात्मक (B) गुणात्मक (C) एक्शन (D) मिश्रित (A) Quantitative (B) Qualitative (C) Action (D) Mixed</p>	B	--Select--		<p>Choose File No file chosen</p> <p>Submit Objection</p>

80	<p>BRI का पूर्ण रूप क्या है ? (A) बेल्ट एंड रिपब्लिक इंडस्ट्री (B) बेसिक एंड रोड इनिशिएटिव (C) बेल्ट एंड रिसोर्स इनिशिएटिव (D) बेल्ट एंड रोड इनिशिएटिव What is the full form of BRI ? (A) Belt and Republic Industry (B) Basic and Road Initiative (C) Belt and Resource Initiative (D) Belt and Road Initiative</p>	D	--Select--		<p>Choose File No file chosen</p> <p>Submit Objection</p>
81	<p>_____ विविध व्यक्तियों को उस संगठन की सुरक्षा को धरने में डालने की कोशिश करता है जिसके लिए वे काम करते हैं। (A) स्नीफिंग (B) स्पार फिशिंग (C) साइबर स्ट्रीकिंग (D) स्पैमिंग _____ tries to trick specific individuals into jeopardizing the security of the organization they work for. (A) Sneaking (B) Spear phishing (C) Cyberstalking (D) Spamming</p>	B	--Select--		<p>Choose File No file chosen</p> <p>Submit Objection</p>
82	<p>प्रायद्वीपीय भारत की सबसे लंबी नदी का नाम क्या है ? (A) नर्मदा (B) कृष्णा (C) महानदी (D) गोदावरी What is the name of the longest river in Peninsular India ? (A) Narmada (B) Krishna (C) Mahanadi (D) Godavari</p>	D	--Select--		<p>Choose File No file chosen</p> <p>Submit Objection</p>
83	<p>NHRC का पूर्ण रूप क्या है ? (A) नेचुरल ह्यूमन राइट्स कमीशन, इंडिया (B) नेशनल ह्यूमन राइटियस कमीशन, इंडिया (C) नेशनल ह्यूमन राइट्स कमीशन, इंडिया (D) नेशनल ह्यूमैनिटी राइट्स कमीशन, इंडिया What is the full form of NHRC ? (A) Natural Human Rights Commission, India (B) National Human Righteous Commission, India (C) National Human Rights Commission, India (D) National Humanity Rights Commission, India</p>	C	--Select--		<p>Choose File No file chosen</p> <p>Submit Objection</p>
84	<p>महासागरीय अम्लीकरण का प्राथमिक कारण क्या है ? (A) समुद्री-जल के तापमान में वृद्धि (B) तेल का रिसाव (C) अत्यधिक मछली पकड़ना (D) समुद्री-जल द्वारा CO₂ का अवशोषण What is the primary cause of ocean acidification ? (A) Increase in sea-water temperature (B) Oil spills (C) Overfishing (D) Absorption of CO₂ by sea-water</p>	D	--Select--		<p>Choose File No file chosen</p> <p>Submit Objection</p>
85	<p>भारतीय कृषि अनुसंधान संस्थान ने भारत में संरक्षित बासमती किस्मों की खेती के लिए किस देश के खिलाफ कानूनी कार्यवाई की मांग की है ? (A) पाकिस्तान (B) बांग्लादेश (C) अफगानिस्तान (D) म्यांमार The Indian Agricultural Research Institute has demanded legal action against which country for cultivating basmati varieties protected in India ? (A) Pakistan (B) Bangladesh (C) Afghanistan (D) Myanmar</p>	A	--Select--		<p>Choose File No file chosen</p> <p>Submit Objection</p>
86	<p>कौन-सा भारतीय राज्य अपनी अनूठी 'वारली' चित्रकला के लिए जाना जाता है ? (A) ओडिशा (B) राजस्थान (C) मध्य प्रदेश (D) महाराष्ट्र Which Indian state is known for its unique 'Warli' paintings ? (A) Odisha (B) Rajasthan (C) Madhya Pradesh (D) Maharashtra</p>	D	--Select--		<p>Choose File No file chosen</p> <p>Submit Objection</p>
87	<p>"चिकनकारी" एक पारंपरिक कढ़ाई शैली है जिसकी उत्पत्ति उत्तर प्रदेश के किस शहर में हुई थी ? (A) वाराणसी (B) नोएडा (C) प्रयागराज (D) लखनऊ "Chikankari" is a traditional embroidery style that originated in which city of Uttar Pradesh ? (A) Varanasi (B) Noida (C) Prayagraj (D) Lucknow</p>	D	--Select--		<p>Choose File No file chosen</p> <p>Submit Objection</p>
88	<p>परमाणु ऊर्जा के उत्पादन के लिए कौन-सा तत्व आवश्यक है ? (A) यूरेनियम (B) हाइड्रोजन (C) कार्बन (D) सिलिकॉन Which element is essential for the production of nuclear energy ? (A) Uranium (B) Hydrogen (C) Carbon (D) Silicon</p>	A	--Select--		<p>Choose File No file chosen</p> <p>Submit Objection</p>
89	<p>"द स्कार्लेट लेटर" किस्मने लिखी ? (A) नथानिएल हॉथोर्न (B) हरमन मेलविल (C) वाशिंगटन इरविंग (D) मार्क ट्वेन Who wrote "The Scarlet Letter" ? (A) Nathaniel Hawthorne (B) Herman Melville (C) Washington Irving (D) Mark Twain</p>	A	--Select--		<p>Choose File No file chosen</p> <p>Submit Objection</p>
90	<p>जीएसटी के ब्रांड एम्बेसडर के रूप में कौन चुना गया था ? (A) अमिताभ बच्चन (B) शिल्पा शेठ्टी (C) शाहसुख खान (D) दीपिका पादुकोण Who was chosen as the brand ambassador of GST ? (A) Amitabh Bachchan (B) Shilpa Shetty (C) Shah Rukh Khan (D) Deepika Padukone</p>	A	--Select--		<p>Choose File No file chosen</p> <p>Submit Objection</p>
91	<p>निम्नलिखित में से कौन-सी रेखा फ्रांस और जर्मनी के बीच की सीमा है ? (A) सेंगर लाइन (B) 49th पैरेलल लाइन (C) सिएफ्रीड लाइन (D) के-डब्ल्यू लाइन Which among the following lines is a boundary between France and Germany ? (A) Senger Line (B) 49th Parallel Line (C) Siegfried Line (D) K-W Line</p>	C	--Select--		<p>Choose File No file chosen</p> <p>Submit Objection</p>
92	<p>विदेश व्यापार महादेशालय (DGFT) किस मंत्रालय के अंतर्गत आता है ? (A) वाणिज्य एवं उद्योग मंत्रालय (B) विदेश मंत्रालय (C) वित्त मंत्रालय (D) सूक्ष्म, लघु और मध्यम उद्यम मंत्रालय The Directorate General of Foreign Trade (DGFT) comes under which Ministry ? (A) Ministry of Commerce and Industry (B) Ministry of External Affairs (C) Ministry of Finance (D) Ministry of Micro, Small & Medium Enterprises</p>	A	--Select--		<p>Choose File No file chosen</p> <p>Submit Objection</p>
93	<p>अजोबर्ताओं के बीच लगातार संसार को प्रेरणाहित करने के लिए किस सोशल मीडिया प्लेटफॉर्म में "स्ट्रीक्स" नामक सुविधा है ? (A) फेसबुक (B) इंस्टाग्राम (C) ट्विटर (D) स्नैपचैट Which social media platform has a feature called "Streaks" to encourage frequent communication between users ? (A) Facebook (B) Instagram (C) Twitter (D) Snapchat</p>	D	--Select--		<p>Choose File No file chosen</p> <p>Submit Objection</p>

94	<p>पल्लव राजवंश की राजधानी कहाँ स्थित थी ? (A) मदुरई (B) मैसूर (C) कांचीपुरम (D) तंजावुर The capital of the Pallava dynasty was located at (A) Madurai (B) Mysore (C) Kanchipuram (D) Thanjavur</p>	C	--Select--		<input type="button" value="Choose File"/> No file chosen <input type="button" value="Submit Objection"/>
95	<p>वित्तीय स्थिरता बोर्ड (FSB) क्या करता है ? (A) यह वित्तीय स्थिरता सुनिश्चित करता है। (B) यह अपने सदस्य देशों के विदेशी मुद्रा भंडार का प्रबंधन करता है। (C) यह दुनिया भर के केंद्रीय बैंकों के लिए व्याज दरों को नियंत्रित करता है। (D) यह विकासशील देशों को वित्तीय सहायता प्रदान करता है। What does the Financial Stability Board (FSB) do ? (A) It ensures financial stability. (B) It manages the foreign exchange reserves of its member countries. (C) It regulates interest rates for central banks worldwide. (D) It provides financial support to developing countries.</p>	A	--Select--		<input type="button" value="Choose File"/> No file chosen <input type="button" value="Submit Objection"/>
96	<p>यदि पश्चिम को दक्षिण-पश्चिम से बदल दिया जाए, तो उत्तर को किससे बदल दिया जाएगा ? (A) उत्तर-पूर्व (B) दक्षिण-पश्चिम (C) उत्तर-पश्चिम (D) दक्षिण If West is replaced by South-West, then North will be replaced by : (A) North-East (B) South-West (C) North-West (D) South</p>	C	--Select--		<input type="button" value="Choose File"/> No file chosen <input type="button" value="Submit Objection"/>
97	<p>यदि 95474 को KGFIF लिखा जाता है, तो 82143 कैसे लिखा जाएगा ? If 95474 is written as KGFIF, then how will 82143 be written ? (A) JCDEF (B) JDCFE (C) JCDFE (D) JDCEF</p>	B	--Select--		<input type="button" value="Choose File"/> No file chosen <input type="button" value="Submit Objection"/>
98	<p>यदि EXAMINATION को VCNZRMZGRLM के रूप में कूटबद्ध किया जाता है, तो WRITTEN को किस प्रकार कूटबद्ध किया जाएगा ? If EXAMINATION is coded as VCNZRMZGRLM, then how will WRITTEN be coded ? (A) DIRGGVM (B) DIUUGMV (C) IDRGMV (D) DIPGGMN</p>	A	--Select--		<input type="button" value="Choose File"/> No file chosen <input type="button" value="Submit Objection"/>
99	<p>एक कक्षा में, साम्बु ऊपर से 10th और नीचे से 36th स्थान पर है। कक्षा में कितने छात्र हैं ? In a class, Sambu is ranked 10th from the top and 36th from the bottom. How many students are there in the class ? (A) 47 (B) 44 (C) 45 (D) 43</p>	C	--Select--		<input type="button" value="Choose File"/> No file chosen <input type="button" value="Submit Objection"/>
100	<p>A, B और C का औसत वजन 60 किलोग्राम है। यदि A और B का औसत वजन 30 किलोग्राम है तथा B और C का औसत वजन 70 किलोग्राम है, तो B का वजन क्या है ? (A) 18 किलोग्राम (B) 20 किलोग्राम (C) 17 किलोग्राम (D) 21 किलोग्राम The average weight of A, B and C is 60 kg. If the average weight of A and B is 30 kg and that of B and C is 70 kg, then what is the weight of B ? (A) 18 kg (B) 20 kg (C) 17 kg (D) 21 kg</p>	B	--Select--		<input type="button" value="Choose File"/> No file chosen <input type="button" value="Submit Objection"/>
101	<p>40 छात्रों की एक कक्षा में, 15 छात्र क्रिकेट खेलते हैं और 15 छात्र टेनिस खेलते हैं, और 5 छात्र दोनों खेल खेलते हैं। तो दोनों में से कोई भी खेल नहीं खेलने वाले छात्रों की संख्या है : In a class of 40 students, 15 students play cricket and 15 students play tennis, and 5 students play both the games. Then the number of students who play neither of the two games is : (A) 10 (B) 35 (C) 15 (D) 25</p>	C	--Select--		<input type="button" value="Choose File"/> No file chosen <input type="button" value="Submit Objection"/>
102	<p>एक व्यक्ति ने एक घोड़े को 25% लाभ पर बेचा। यदि वह इसे 35% कम में खरीदता और इसे ₹ 732 कम में बेचता, तो उसे 36% का लाभ होता। घोड़े का क्रय मूल्य क्या था ? A person sold a horse at a gain of 25%. Had he bought it for 35% less and sold it for ₹ 732 less, he would have made a profit of 36%. The cost price of the horse was : (A) ₹ 2,000 (B) ₹ 1,800 (C) ₹ 2,500 (D) ₹ 1,500</p>	A	--Select--		<input type="button" value="Choose File"/> No file chosen <input type="button" value="Submit Objection"/>
103	<p>K, L की पत्नी है और M, L की बहन है। N, K की बेटि है, जबकि O, M की माँ है। O का K से क्या संबंध है ? (A) ससुर (B) माँ (C) ससुर (D) पिता K is L's wife and M is L's sister. N is the daughter of K, while O is M's mother. What is the relation of O to K ? (A) Father-in-law (B) Mother (C) Mother-in-law (D) Father</p>	C	--Select--		<input type="button" value="Choose File"/> No file chosen <input type="button" value="Submit Objection"/>
104	<p>दी गई श्रृंखला में से विषम (बेमत) को ज्ञात कीजिए : Find the odd one out from the given series : 486, 482, 478, 474, 472, 466, 462 (A) 466 (B) 472 (C) 478 (D) 474</p>	B	--Select--		<input type="button" value="Choose File"/> No file chosen <input type="button" value="Submit Objection"/>
105	<p>एक बस 50 किलोमीटर प्रति घंटे की गति से 250 किलोमीटर की दूरी तय करती है। यथा पूरी करने में कितना समय लगेगा ? (A) 7 घंटे (B) 6 घंटे (C) 5 घंटे (D) 4 घंटे A bus travels a distance of 250 kilometers at a speed of 50 kilometers per hour. How much time will it take to complete the journey ? (A) 7 hours (B) 6 hours (C) 5 hours (D) 4 hours</p>	C	--Select--		<input type="button" value="Choose File"/> No file chosen <input type="button" value="Submit Objection"/>
106	<p>निम्नलिखित अनुक्रम में लुप्त संख्या कौन-सी है ? What is the missing number in the following sequence ? 3, 18, 90, 360, 1080, 2160, _____, 0 (A) 1080 (B) 0 (C) 2160 (D) 360</p>	C	--Select--		<input type="button" value="Choose File"/> No file chosen <input type="button" value="Submit Objection"/>
107	<p>श्रृंखला में अगली संख्या ज्ञात कीजिए 11, 39, 75, 119, _____. Find the next number in the series 11, 39, 75, 119, _____. (A) 171 (B) 191 (C) 161 (D) 181</p>	A	--Select--		<input type="button" value="Choose File"/> No file chosen <input type="button" value="Submit Objection"/>
108	<p>निम्नलिखित श्रृंखला में गलत संख्या ज्ञात कीजिए। Find the incorrect number in the following series. 1, 12, 144, 1782, 20736 (A) 1782 (B) 12 (C) 20736 (D) 144</p>	A	--Select--		<input type="button" value="Choose File"/> No file chosen <input type="button" value="Submit Objection"/>
109	<p>यदि INSECT को JOTFUD, HOUSEFLY को IPVTFGMZ के रूप में कूटबद्ध किया जाता है, तो BUTTERFLY को किस प्रकार कूटबद्ध किया जाएगा ? If INSECT is coded as JOTFUD, HOUSEFLY as IPVTFGMZ, then BUTTERFLY will be coded as : (A) GMGUUCVF (B) CVUUSGMZF (C) BVUUGMSG (D) CVUUFSGMZ</p>	D	--Select--		<input type="button" value="Choose File"/> No file chosen <input type="button" value="Submit Objection"/>
110	<p>Y, X के पूर्व में है, जो Z के उत्तर में है। यदि P, Z के दक्षिण में है, तो P, Y के किस दिशा में है ? (A) दक्षिण-पूर्व (B) दक्षिण-पश्चिम (C) उत्तर-पश्चिम (D) उत्तर-पूर्व Y is in the East of X which is in the North of Z. If P is in the South of Z, then in which direction of Y is P ? (A) South-East (B) South-West (C) North-West (D) North-East</p>	B	--Select--		<input type="button" value="Choose File"/> No file chosen <input type="button" value="Submit Objection"/>

<p>111</p>	<p>एक लड़की ने एक लड़के का परिचय देते हुए कहा, "वह मेरे चाचा के पिता की बेटी का बेटा है।" लड़की का लड़के से क्या संबंध है ? (A) भाई (B) माँ (C) पिता (D) बहन Introducing a boy, a girl said, "He is the son of the daughter of the father of my uncle." How is the girl related to the boy ? (A) Brother (B) Mother (C) Father (D) Sister</p>	<p>D</p> <p>--Select--</p>	<p>Choose File No file chosen</p> <p>Submit Objection</p>
<p>112</p>	<p>श्रृंखला में अगली संख्या ज्ञात कीजिए 6, 24, 120, 720, ____ . Find the next number in the series 6, 24, 120, 720, ____ . (A) 5004 (B) 5040 (C) 5440 (D) 5400</p>	<p>B</p> <p>--Select--</p>	<p>Choose File No file chosen</p> <p>Submit Objection</p>
<p>113</p>	<p>दिया गया पाई चार्ट विन पोषण के निम्नलिखित स्रोतों (करोड़ ₹ में) को दर्शाता है, जो लोक निर्माण विभाग (पीब्ल्यूडी) अपनी चरण II परियोजनाओं के लिए एकत्र करने की योजना बना रहा है।</p>  <p>एक आउटसोर्स एजेंसी द्वारा टोल संग्रह के माध्यम से ₹ 4910 करोड़ के साथ परियोजना का समर्थन करने के लिए, अधिकतम 20% कमिशन का प्रावधान करने हुए, आउटसोर्स एजेंसी को कुल किसकी राशि एकत्र करने की अनुमति दी जानी चाहिए ? (A) ₹ 5500 करोड़ (B) ₹ 5254 करोड़ (C) ₹ 5892 करोड़ (D) ₹ 4845 करोड़</p> <p>The given pie chart illustrates the various sources of funding (in ₹ crores) that the Public Works Department (PWD) plans to collect for its Phase II Projects.</p>  <p>To support the project with ₹ 4910 crores through toll collection by an outsourced agency, allowing for a maximum 20% commission, what is the total amount that the outsourced agency should be permitted to collect ? (A) ₹ 5500 crores (B) ₹ 5254 crores (C) ₹ 5892 crores (D) ₹ 4845 crores</p>	<p>C</p> <p>--Select--</p>	<p>Choose File No file chosen</p> <p>Submit Objection</p>
<p>114</p>	<p>(प.सं. 114 से 118 पर्यंत प्रश्न)</p> <p>शिक्षा को वैज्ञानिक और प्रायोगिक मूल्यांकन के तहत जहाँ भौतिक परिवेश को पूर्णतया परिवर्तित कर दिया है और जीवन को अत्यधिक गतिशीलता दे दी है, वहाँ साहित्य, कला, धर्म और दर्शन को अपनी पेंशन से बहिष्कृत कर मानव विकास को एकांगी बना दिया है। पिछली शताब्दी में विकास के मूल प्रकृति के हाथ से निकलकर मनुष्य के हाथ में पहुँच गए हैं, विज्ञान के हाथ में पहुँच गए हैं और इस बन्द गली में पहुँचने का अर्थ मानव जाति का नशा भी हो सकता है। इसलिए नैतिक और आर्थिक मूल्यों को साथ-साथ विकसित करने की आवश्यकता है, जिससे विज्ञान हमारे भ्रमसागर का हाथ न बन जाए। व्यक्ति की क्षुद्रता और राष्ट्र की क्षुद्रता बन जाती है, जो विज्ञान भ्रमसागर बन जाता है। इस सत्य को प्रत्येक क्षण सामने रखकर ही आनु-विस्फोट को मानव प्रेम और लोकहित की मर्यादा दे सकेंगे। अपरिचित भौतिक शक्तियों का स्वामी मानव आज अपने व्यक्तित्व के प्रति आस्थावान नहीं है और प्रत्येक क्षण अपने अस्तित्व के समन्वय में शंकाग्रस्त है।</p> <p>आधुनिक मानव विकास को सर्वांगीण नहीं कहा जा सकता है, क्योंकि : (A) भौतिक परिवेश पूर्णतया परिवर्तित हो गया है। (B) जीवन में आशाहीन गतिशीलता का समावेश नहीं हुआ। (C) विकास के मूल मानव के हाथ में हैं। (D) साहित्य, धर्म, कला आदि मानव पेंशन से निवारित हैं।</p>	<p>D</p> <p>--Select--</p>	<p>Choose File No file chosen</p> <p>Submit Objection</p>
<p>115</p>	<p>अणु-विस्फोट को मानवतावादी की मर्यादा देना तभी सम्भव है, जब व्यक्ति की : (A) क्षुद्र भावनाओं का उन्मूलन हो। (B) उदात्त भावनाओं को विकसित किया जाए। (C) क्षुद्रता को राष्ट्र की क्षुद्रता न बनने दिया जाए। (D) क्षुद्रता जब राष्ट्र की क्षुद्रता बन जाए।</p>	<p>C</p> <p>--Select--</p>	<p>Choose File No file chosen</p> <p>Submit Objection</p>
<p>116</p>	<p>आज का मानव अपने व्यक्तित्व और अस्तित्व के प्रति इसलिए शंकालु है, क्योंकि : (A) वह सीमित भौतिक शक्तियों का स्वामी है। (B) उसका आत्मविश्वास लुप्त होता जा रहा है। (C) मानव ईश्वर के प्रति आस्थावान नहीं है। (D) वह विज्ञान की विघ्नसक शक्तियों से भयभीत है।</p>	<p>D</p> <p>--Select--</p>	<p>Choose File No file chosen</p> <p>Submit Objection</p>
<p>117</p>	<p>हमारी विज्ञानाप्त शिक्षा की सर्वाधिक महत्वपूर्ण देन है : (A) जीवन का सर्वांगीण विकास। (B) गतिशील जीवन का प्रत्यावर्तन। (C) जीवन का अपरिचित भौतिक विकास। (D) जीवन का एकांगी विकास।</p>	<p>C</p> <p>--Select--</p>	<p>Choose File No file chosen</p> <p>Submit Objection</p>
<p>118</p>	<p>मानव जीवन को भ्रमसागर बनने से कैसे रोक सकता है ? (A) नैतिक-आर्थिक मूल्यों को विकसित करके (B) मानव सभ्यता का विनाश करके (C) भौतिक जीवन-मूल्यों का निर्धारण करके (D) प्रकृति-जगत का पूर्ण स्वामित्व प्राप्त करके</p>	<p>A</p> <p>--Select--</p>	<p>Choose File No file chosen</p> <p>Submit Objection</p>
<p>119</p>	<p>सदा एकवचन में प्रयुक्त होने वाले शब्दों को चुनिए : (A) हस्ताक्षर, जनता (B) प्राण, बाल (C) होश, लोग (D) वर्षा, जनता</p>	<p>D</p> <p>--Select--</p>	<p>Choose File No file chosen</p> <p>Submit Objection</p>
<p>120</p>	<p>'राजा' शब्द के लिए पर्यायवाची शब्द चुनिए : (A) संद्वर (B) लकेश (C) रघुबीर (D) गोविंद</p>	<p>A</p> <p>--Select--</p>	<p>Choose File No file chosen</p> <p>Submit Objection</p>
<p>121</p>	<p>निम्नलिखित में से मूक का अनेकार्थक शब्द कौन-सा नहीं है ? (A) चुप (B) विवश (C) गूँगा (D) शांत</p>	<p>D</p> <p>--Select--</p>	<p>Choose File No file chosen</p> <p>Submit Objection</p>
<p>122</p>	<p>निम्नलिखित में से वाक्यों के शुद्ध रूप का चयन कीजिए : (A) भारत में अनेकों जाति हैं। (B) भारत में अनेकों जातियाँ हैं। (C) भारत में अनेक जाति हैं। (D) भारत में अनेक जातियाँ हैं।</p>	<p>D</p> <p>--Select--</p>	<p>Choose File No file chosen</p> <p>Submit Objection</p>
<p>123</p>	<p>विस्मयबोधक चिह्न है : (A) (-) (B) (!) (C) (.) (D) (:)</p>	<p>B</p> <p>--Select--</p>	<p>Choose File No file chosen</p> <p>Submit Objection</p>

124	किस वाक्य में 'अच्छा' शब्द का प्रयोग विशेषण के रूप में हुआ है ? (A) यह स्थान बहुत अच्छा है। (B) अच्छा है वह अभी आ जाए। (C) तुमने अच्छा किया जो आ गए। (D) अच्छा, तुम घर जाओ।	A	--Select--		Choose File No file chosen Submit Objection
125	'अगम - आगम' शब्द-युग्म का सही अर्थ है : (A) शास्त्र - शास्त्री (B) स्वानुभूत - अनजान (C) दुर्लभ - उत्पत्ति (D) उत्पत्ति - दुर्लभ	C	--Select--		Choose File No file chosen Submit Objection
126	'मैंने आम खा लिया है' वाक्य में प्रयुक्त काल है : (A) अपूर्ण भूतकाल (B) पूर्ण भूतकाल (C) आसन्न भूतकाल (D) सामान्य भूतकाल	C	--Select--		Choose File No file chosen Submit Objection
127	किसी एक में ही आस्था रखने वाला वाक्यांश के लिए एक शब्द बताएं। (A) अनुमोदन (B) अनिकेत (C) अनुवीर्ण (D) अन्य	D	--Select--		Choose File No file chosen Submit Objection
128	निम्नलिखित शब्दों में प्रयुक्त प्रत्यय किस विकल्प में ठीक-ठीक प्रदर्शित किए गए हैं ? शब्द - धमाका, लड़ाकू, उड़ाक, छिलका (A) का, आकू, आका, आक (B) आक, का, आका, आकू (C) आकू, आका, आक, का (D) आका, आकू, आक, का	D	--Select--		Choose File No file chosen Submit Objection
129	'आग लगने पर कुर्आ खोदना' - लोकोक्ति का अर्थ होगा : (A) संकट के समय बचाव के लिए सोचना (B) कुर्आ खोदकर पुण्य कमाना (C) जल्दी से कार्य करना (D) मुसीबत आने पर घबरा जाना	A	--Select--		Choose File No file chosen Submit Objection
130	'जिसे सरलता से पढ़ा जा सके' के लिए एक शब्द है : (A) सुपुसा (B) पाठ्य (C) सुपाठ्य (D) स्थानापन	C	--Select--		Choose File No file chosen Submit Objection
131	वह आई हो तो मेरी चिट्ठी उसे दे देना। इस वाक्य में कौन-सा काल है ? (A) सभाष्य वर्तमान (B) सामान्य वर्तमान (C) सदिश्य वर्तमान (D) तत्कालीन वर्तमान	A	--Select--		Choose File No file chosen Submit Objection
132	'अशोच - अशोच' शब्द-युग्म का सही विकल्प चुनिए : (A) आँख - काजल (B) मूर्ख - निडर (C) बिना सोच के - अशुद्धि (D) बराई - अयोग्य	C	--Select--		Choose File No file chosen Submit Objection
133	शुद्ध वाक्य का चयन कीजिए। (A) वे चाहे भले हो न आएँ, पर तुम्हें आना होगा। (B) साख ने कहा है कि, किसी को अन्दर न जाने दिया जाए। (C) इस समय मोहन की आयु 20 वर्ष है। (D) मध्यकालीन युग में कलाओं की बहुत उन्नति हुई।	D	--Select--		Choose File No file chosen Submit Objection
134	'जुबान पर लगाम न होना' का अर्थ है : (A) अनावश्यक रूप से स्पष्टवादी होना (B) सर्वत्र अपनी वाग्मिता दिखाना (C) स्पष्टवादी होना (D) सदैव कठोर वचन कहना	A	--Select--		Choose File No file chosen Submit Objection
135	निम्नलिखित में से कौन-सा 'अमृत' शब्द का पर्यायवाची शब्द नहीं है ? (A) क्षीर (B) अमिय (C) सुधा (D) सोम	A	--Select--		Choose File No file chosen Submit Objection
136	कौन-सा वर्ण दन्त्य नहीं है ? (A) घ (B) ट (C) त (D) द	B	--Select--		Choose File No file chosen Submit Objection
137	निम्नलिखित में से कौन-से शब्द में उपसर्ग नहीं है ? (A) पराज्व (B) ओड़ना (C) अपवाद (D) प्रभाव	B	--Select--		Choose File No file chosen Submit Objection
138	समास का शाब्दिक अर्थ है : (A) विस्तृत (B) विच्छेद (C) संक्षिप्त (D) विग्रह	C	--Select--		Choose File No file chosen Submit Objection
139	एक ओर अजगहहि लखि एक ओर मृगयाय। विकल बटोही बीच ही परयो मूछा खाय।। इन पंक्तियों में प्रयुक्त रस है : (A) वीर रस (B) रौद्र रस (C) भयानक रस (D) करुण रस	C	--Select--		Choose File No file chosen Submit Objection
140	निम्नलिखित में से 'वयोवृद्ध' शब्द का सही संधि-विच्छेद कौन-सा है ? (A) वयः + वृद्ध (B) बायाः + वृद्ध (C) वयोः + वृद्ध (D) व्ययः + वृद्ध	A	--Select--		Choose File No file chosen Submit Objection
141	2019 का साहित्य अकादमी पुरस्कार किस रचनाकार को दिया गया ? (A) कारीनाथ सिंह (B) रमेश कुंतल मेघ (C) रामदत्त मिश्र (D) नंदकिशोर आचार्य	D	--Select--		Choose File No file chosen Submit Objection
142	'अनावत' शब्द का समभिन्नार्थक क्या है ? (A) अयोग्य आचरण (B) निरादर (C) न दोहराया हुआ (D) पृथ्वी	C	--Select--		Choose File No file chosen Submit Objection
143	निम्नलिखित में से कौन-सा शब्द पुल्लिंग है ? (A) घटना (B) रीति (C) क्षमा (D) क्षेत्र	D	--Select--		Choose File No file chosen Submit Objection

144	'भ्रमसागर' के रचनाकार हैं : (A) उममान (B) सुन्दर दास (C) सदल मिश्र (D) लल्लू लाल	D	--Select--	<input type="text"/>	Choose File No file chosen Submit Objection
145	'क्या भूलूँ क्या याद करूँ' हरिवंशराय बच्चन की आत्मकथा शृंखला का कौन-सा भाग है ? (A) तीसरा (B) पहला (C) चौथा (D) दूसरा	B	--Select--	<input type="text"/>	Choose File No file chosen Submit Objection
146	हिंदी भाषा के लिए साहित्य अकादमी पुरस्कार के प्रथम विजेता कौन थे ? (A) सुमित्रानंदन पंत (B) विष्णु डे (C) हरिवंशराय बच्चन (D) माखनलाल चतुर्वेदी	D	--Select--	<input type="text"/>	Choose File No file chosen Submit Objection
147	'देशप्रेम' में कौन-सा समास है ? (A) तत्पुष्प (B) बहुव्रीहि (C) अव्ययीभाव (D) द्विगु	A	--Select--	<input type="text"/>	Choose File No file chosen Submit Objection
148	निजवाचक सर्वनाम का प्रयोग किस वाक्य में हुआ है ? (A) आज अपनापन कहीं है (B) आप भला तो जग भला (C) यह मेरी निजी पुस्तक है (D) अपनी से क्या छिपाना	B	--Select--	<input type="text"/>	Choose File No file chosen Submit Objection
149	निम्नलिखित में से कौन-सा शब्दालंकार नहीं है ? (A) यमक (B) रूपक (C) अनुप्रास (D) श्लेष	B	--Select--	<input type="text"/>	Choose File No file chosen Submit Objection
150	जब दो व्यंजन एक साथ मिलते हैं, तो उन्हें क्या कहते हैं ? (A) संयुक्त व्यंजन (B) महाप्राण (C) अल्पप्राण (D) अंतस्थ	A	--Select--	<input type="text"/>	Choose File No file chosen Submit Objection